

苏州新区枫桥实验小学
一年级下册数字易错题整理
班级_____姓名_____

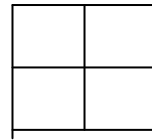
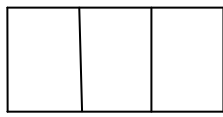
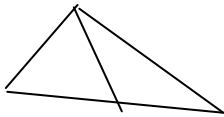
一、填空题

1. 100 个一是 ()。
2. 56 十位上的数是 ()，表示 () 个 ()；个位上的数是 ()，表示 () 个 ()。
3. 67 前面的一个数是 ()，后面的一个数是 ()。
4. 在 45、54、67、89、21 和 100 中，单数有 ()，双数是 ()。
5. 在 31 和 45 之间的单数由 () 个，双数有 () 个。
6. 把 64、38、56、80、82、39、98、100 按照从小到大的顺序排列，

80 是第 () 个数，最后一个数是 ()。
7. () 比 74 小 1，74 比 () 小 1。
8. 77 接近 81 还是接近 74？()。
9. 我比 90 小，比 87 大，我是双数。()。
我是一个整十数，比 70 小，比 57 大。()。
我的个位数字比十位数字大 2，比 60 小，比 50 大。()。
10. 体育课上，进行 100 米赛跑测试。小亮用了 17 秒。小强用了 20 秒。谁跑的快一些？
11. 个位上是 5 的两位数有 () 个。
12. 一个数的个位上和十位上的数字和是 4，这个数是 ()？
13. 用一个长方体最多可以画出多少个不同的长方形？
14. 80 左边一个数是 ()。
15. 爷爷今年七十几岁，奶奶今年六十几岁。爷爷的年龄最小是 () 最，奶奶的年龄最大是 () 岁。
16. 小红排在第 27 个，小红前面有 () 人。
小红的后面有 9 人，后面有 7 人，这条队伍一共有 () 人。
17. 39 添上 1 是 () 个十，是 ()。
18. 一张 50 元可以换 () 张 10 元和 () 张 20 元。

19. 2张10元, 1张5元和4张1角一共是()元()角。
20. $25+56$ 和 $56+()$ 同样多。
21. 最大的两位数和最小的三位数相差()。
最大的两位数和最小的两位数相差()。
22. 妈妈买一件78元的上衣, 付的都是20元, 最少要付()张。
23. 一(1)班有男人19人, 女生16人。王老师带全班小朋友去春游, 乘这辆车, 座位够吗?
24. 46加7比46加()大1。
25. 比41小, 比37大的单数是()。
26. 把下面的算式按得数从小到大的顺序排列:
 $12-6$ $12-7$ $13-5$ $11-4$ $12-9$
-
27. 一个数的个位上和十位上的数字和是3, 这个数可能是()。
28. 写出4个十位上是7的两位数, 并按从大到小的顺序排列。
-
29. 在1~100这100个数中, 数字5出现了()次。
30. 在63、41、60、83、62中, ()比62大得多, ()比62小一些, ()最接近62。
31. 一个数的个位数字比十位数字大2, 比60小, 比50大。这个数是()。
32. 在31和45之间的单数有()个, 双数有()。
33. 用10、20、30、40、50、60写出三道算式, 使三道算式的得数相等。
-
34. 20名男生排成一队, 每两个男生之间插入一名女生后, 这一队一共有()名学生?
35. 小明钓了28条鱼, 给小刚2条, 他们就同样多。小刚钓了()条鱼。
36. 怎样付5角钱?
-
37. 把5元、5角、10元、5分、100元、1元按从少到多的顺序排列:
-
38. 小明今年8岁, 爷爷今年66岁, 小明10岁时, 爷爷()岁。

39.



() 个三角形 () 个长方形 () 个正方形

40. 1 角 = () 分

10 分 = () 角

7 角 = () 分

60 分 = () 角。

1 角 7 分 = () 分

9 元 1 角 = () 角。

25 分 = () 角 () 分。 1 元 = () 角 = () 分。

41. 在 4、9、7、16、11 中选择三个数字写出两道加法算式和两道减法算式。

二、解决实际问题

1. 刚刚和明明都要写 12 道口算题，刚刚已经写了 5 道，明明写了 6 道。谁剩下的多？多几道？

2. 小亮用 16 元买了一本故事书后还剩 6 元。

(1) 一本故事书多少元？

(2) 用去的比剩下的多多少元？

3. 饲养小组养了 23 只小白兔，19 只小灰兔和 18 只小黑兔。

(1) 小白兔和小灰兔一共有多少只？

(2) 小白兔比小黑兔多多少只？

(3) 小灰兔比小白兔少多少只？

4. 操场上原来有 20 名男同学和 26 名女同学，又来了 8 名女同学。现在有多少名女同学？

5. 明明家有 3 口人，明明今年 7 岁，妈妈今年 33 岁，爸爸今年 36 岁，爸爸比明明大多少岁？

6. 饲养组养了 25 只小兔子，要给每只小兔子喂一个萝卜，到最后还缺 7 个萝卜，饲养组有多少个萝卜？